

2026年度

湘南白百合学園中学校

入学試験問題

社 会

40分

受験番号		氏名	
------	--	----	--

○受験番号・氏名は解答用紙にも書くこと。

1 次の文章や資料について答えなさい。

みなさんは「米騒動」ということばを聞いたことがありますか。

1918年、商人たちによる米の買い占めが引き金となり、米の価格がとて高くなりました。これに対し、A富山県の主婦たちの行動をきっかけに人々が全国で立ち上がり、米屋やお金持ちの家を襲ううちこわしや、焼きうちが起きました。これがB元々の「米騒動」ですが、近年ではここまですは至らないものの、米の供給に問題が生じて社会的な混乱が起きた際に、そのときの元号をつけて「〇〇の米騒動」と呼ぶことがあります。

平成の初め、C冷夏による大凶作が原因で米の生産量が激減しました。スーパーの棚から米が消え、人々が店に殺到するパニックが起きました。これに対してD政府はタイなどから米を緊急輸入して対応しましたが、この出来事は後に「平成の米騒動」と呼ばれました。

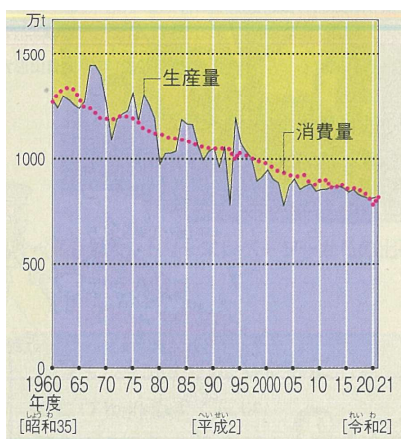
2023年には夏の猛暑により米の品質が低下し、Eコロナ禍からの経済回復による需要の増加もあり、主に業務用の米が不足して価格が高くなりました。以来、現在に至るまで「令和の米騒動」と呼ばれる事態が続いていますが、その背景には長年にわたる日本の農業政策が影響しています。

戦中・戦後に食料が不足して以来、政府は(F)制度を定め、米の増産に力を入れました。しかし、G1960年代後半以降、政府が買い上げた米がしだいに余るようになったため、H1970年代からは生産調整が始められ、(I)政策が実施されました。

その後、「平成の米騒動」をきっかけに、主食である米がいつでも安定して手に入るようにしなければならぬという考えから、1995年には(F)制度にかわって新食糧法が施行され、もしもの事態に備えて国が計画的に米を保管するようになりました。この保管された米を(J)米といい、「令和の米騒動」が問題となった2025年3月以降、政府が放出していますが、なかなか行きわたらない状況が続きました。また、米のKアメリカ合衆国からの輸入量が拡大されることも発表されました。

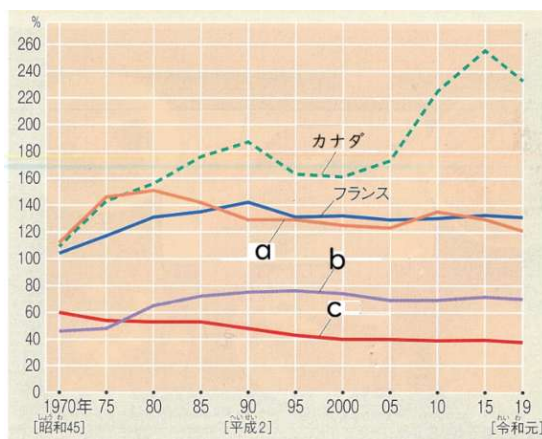
しかし、米は日本の主食であり、ほぼ自給できる数少ない大切な食料です。その米まで輸入に頼るようになると、L日本の食料自給率はさらに低下します。自分たちで食べるものを十分に作れない国は、いざという時に非常に弱い立場になります。また、M食料を輸入するための船や飛行機での輸送には、たくさんの石油が使われ、環境に負担をかけることにもつながります。わたしたちはこれからのN日本の食料生産の未来について、自分ごととして考えていく必要があるのです。

[資料1] 米の生産量と消費量の変化



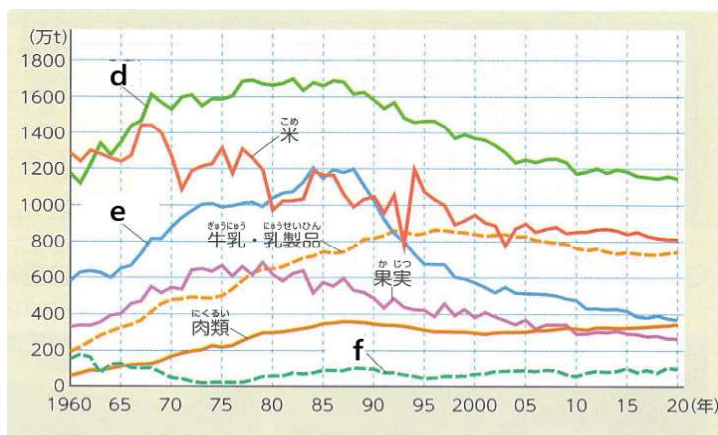
食料需給表より

[資料2] 主な国の食料自給率



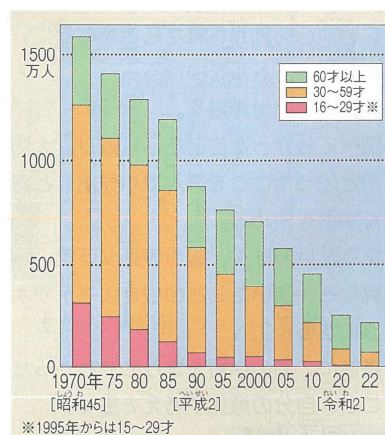
食料需給表より

[資料3] 日本のおもな農産物と水産物の生産量の変化



食料需給表より

[資料4] 農業で働く人数の変化



農業構造動態調査ほか

1 下線部A について、富山県の水田率は約96%で全国1位です。水田率とは、耕地面積に占める田の面積の割合を示す数値です。

(1) 富山県の水田率が高い理由として誤っているものを次から1つ選び、記号で答えなさい。

- ア. 日本海に面して三方を山に囲まれており、山から多くの河川が流れて広い平野をつくったから。
- イ. 北アルプスなどの山々からの雪解け水が豊富に流れ込むから。
- ウ. 夏は高温多湿になり米作に適した気候だから。
- エ. 大消費市場である都市に近く、いつでも新鮮な状態で出荷できるから。

(2) 水田で米作を行うことの利点として誤っているものを次から1つ選び、記号で答えなさい。

- ア. 連作障害を防ぐことができる。
- イ. メタンの発生を避けることができる。
- ウ. 雑草を生えにくくすることができる。
- エ. 保温性を良くすることができる。

(3) 水田には保水性と排水性のバランスが良い土地が向いているといわれます。全国で水田率が最も低いと考えられる都道府県を次から1つ選び、記号で答えなさい。

- ア. 北海道      イ. 秋田県      ウ. 佐賀県      エ. 沖縄県

2 下線部B がおきたときの元号を答えなさい。

3 下線部C について、冷夏だとなぜ凶作になるのか、誤っているものを次から1つ選び、記号で答えなさい。

ア. 稲は一定の気温に達しないと、成長が遅れたり、生育が止まったりするから。

イ. 低温が続くと植物が弱り、病気にかかりやすくなるから。

ウ. 冷夏になると日本海側で冷たく湿った「やませ」が吹きやすくなるから。

エ. 冷夏は日照不足を伴うことが多く、光合成が十分に行われないと、植物のエネルギー生成がとどこおるから。

4 下線部D について、日本と外国では使用できる農薬や食品添加物が違うため、日本の法律に合格しないと食品を輸入することができません。輸入食品の安全を守るための検査を行ったり、入国者による感染症の流入を防いだりする、全国の主な港や空港に置かれている機関は何ですか。次から1つ選び、記号で答えなさい。

ア. 検疫所      イ. 税関      ウ. 管制所      エ. 出入国在留管理局

5 下線部E について、「コロナ禍からの経済回復による需要の増加」とは具体的にどのようなことですか。解答らん(1)に合うように3～6文字で答えなさい。

6 ( F ) に適する語句を次から1つ選び、記号で答えなさい。

ア. 自主流通      イ. 食糧管理      ウ. 食品衛生      エ. 食品表示

7 下線部G について、[資料1]の説明文として、正しいものを次からすべて選び、記号で答えなさい。正しいものがない場合、解答らん(1)に「カ」と答えなさい。

ア. 米の消費量は1960年代前半をピークに下がり続け、2020年にはその半分にも満たなくなっている。

イ. 米の生産量は1960年代後半をピークに下がり続けているが、常に消費量を下回ることはない。

ウ. 「平成の米騒動」は1993年ごろに起きていると考えられる。

エ. 1993年の消費量は、1967年の消費量の約半分ほどである。

オ. 1997年ごろから生産量、消費量とも1000万トンを割り続けている。

8 下線部H について、

(1) 水田を他の作物を栽培する畑として利用することを何といいますか。

(2) ( I ) に適する語句を答えなさい。

9 ( J ) に適する語句をひらがな3文字で答えなさい。

10 下線部Kについて、[資料2] のa～cには、日本、イギリス、アメリカ合衆国のいずれかが入ります。アメリカ合衆国を示しているものを選び、記号で答えなさい。

11 下線部Lについて、[資料3] 中のd～fの組み合わせとして正しいものを次から1つ選び、記号で答えなさい。

- |             |          |          |
|-------------|----------|----------|
| ア. d : 小麦   | e : 魚かい類 | f : 野菜   |
| イ. d : 小麦   | e : 野菜   | f : 魚かい類 |
| ウ. d : 野菜   | e : 小麦   | f : 魚かい類 |
| エ. d : 野菜   | e : 魚かい類 | f : 小麦   |
| オ. d : 魚かい類 | e : 野菜   | f : 小麦   |
| カ. d : 魚かい類 | e : 小麦   | f : 野菜   |

12 下線部Mについて、食料の輸送が環境にどのくらい影響をあたえるかを示す、食料の重量 (t) にその食料が生産地から消費地に運ばれるまでの距離 (km) をかけた数値を何といますか。

13 下線部Nについて、日本の食料生産は現在多くの問題を抱えています。どのような問題点があるか、[資料4] から問題点を2つ読み取り、一文で答えなさい。


## 2

海が見える片瀬山に住むゆりこさんは、海の歴史を調べて（A）～（F）のレポートにまとめました。これらのレポートを読んであとの問いに答えなさい。

（A）日本は海にかこまれた国で、昔から魚や貝を食べて生活をする人々がたくさんいました。しかしそのころの魚をとって生活するようすを伝える（ 1 ）は、今は内陸にあります。それは当時気温が高くなりはじめ、海水面が上昇したからです。これを縄文海進といいます。①米づくりがはじまっても、魚や貝を食べる生活は続いていたようです。……

（B）海の向こうから日本に攻め込んでくることもありました。②モンゴルが多くの国をしたがえて大帝国を築いたとき、攻め込んで日本も支配しようとしてきました。しかし武士の活躍などにより、その試みは失敗に終わりました。③幕府は武士へのほうびに困ったものの、この事件を利用して支配を強めていきました。……

（C）④アメリカからの黒船をきっかけに日本は開国し、ふたたび海を通じて⑤新しい技術や思想がおおやけに伝わるようになりました。一方で、前の時代に活躍していた⑥日本海で産物をはこぶ北前船（下の絵図）は、この新しい時代でも見られました。また歌舞伎や落語などの娯楽も引き続き人々は楽しみました。……



（D）海の向こうから日本へさまざまなものがやってきました。とくに⑦中国へは積極的に使者を送って、すすんだ技術や文物をもちかえり、それは日本の政治や文化に大きな影響を与えました。しかし今から約1100年ほど前、中国の情勢が不安定となったため、使者を送ることをとめました。そして今まで学んだ文化をうまくいかし、⑧独自の文化をひらかせることになりました。……

（E）この時代のはじめ、世界中が不景気となり、⑨日本では中国に勢力をのばして景気を回復させようという考えが広まりました。そしてついに中国と戦争をはじめ、⑩太平洋の向こうのアメリカとも戦争をはじめました。戦争が終わって80年たちますが、その影響はなくなっています。……

（F）海の往来が制限された時代もありました。⑪キリスト教へのおそれなどから、⑫幕府はオランダと中国に限り、出島のある（ 2 ）での貿易船の出入りを認めました。これを鎖国とよびます。鎖国は「国をとぎす」という意味ですが、実は幕府が貿易や外交を制限するものでした。オランダを通じて幕府だけが最新の世界のことを知っていたようです。……

1 レポート(A)中の( 1 )に当てはまる遺跡としてふさわしいものを1つ選び、記号で答えなさい。

ア. 稻荷山古墳      イ. 大森貝塚      ウ. 板付遺跡      エ. 平城宮跡

2 下線部①がはじまった時代に関する説明として正しいものを1つ選び、記号で答えなさい。

ア. 豊作をいのる祭りでは、土偶がもちいられた。  
イ. 米づくりは中国や朝鮮半島から伝わり、日本では青森県から広がった。  
ウ. 大陸から青銅器や鉄が伝わり、石器は道具としてつかわれなくなった。  
エ. 争いがおこり、いくつかのむらをしたがえる豪族がうまれた。

3 下線部②について、この出来事を何といいますか。漢字2字で答えなさい。

4 下線部③についての説明として正しいものを1つ選び、記号で答えなさい。

ア. この幕府は征夷大將軍がひらき、福原を本拠地に定めた。  
イ. この幕府の將軍が保護した観阿弥・世阿弥は、能を大成した。  
ウ. この幕府のもと、武士のための法律である御成敗式目がつくられた。  
エ. この幕府は太政大臣がひらき、おすめを天皇のきさきにして力をもつようになった。

5 下の文章は下線部④のころを説明したものです。( a )～( c )にあてはまる人名を、下のア～エからそれぞれ選び、記号で答えなさい。

力がおとろえた幕府をみて、あたらしい政治のしくみをつくろうという動きがおこった。この動きの中心となったのは、薩摩藩の( a )と( b )、そして長州藩の( c )である。2つの藩はやがて手を組み、幕府を倒すことをめざすようになった。新政府軍と幕府軍の戦いは、新政府軍が有利にすすみ、( a )と勝海舟の話し合いの結果、江戸城は開城されることになった。

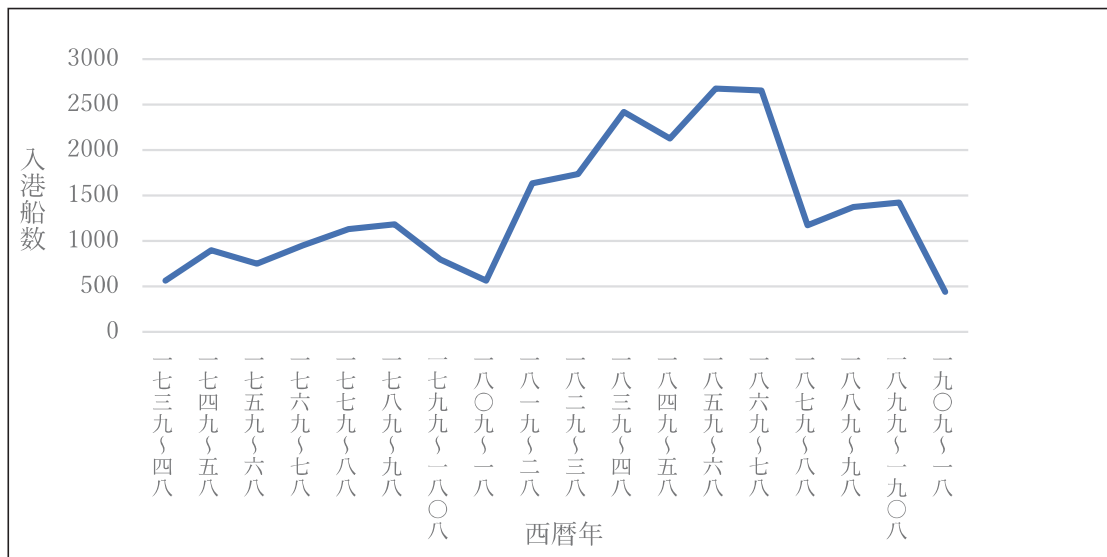
ア. 大久保利通      イ. 木戸孝允      ウ. 坂本龍馬      エ. 西郷隆盛

6 下線部⑤についての説明として正しいものを1つ選び、記号で答えなさい。

ア. 渋沢栄一は民間会社の育成に力を入れるなど、産業の発展に貢献した。  
イ. 大隈重信は『学問のすゝめ』をあらわし、あたらしい時代にふさわしい考えを広めた。  
ウ. 日本の伝統的な美術を再発見したモースは、東京美術学校の設立に力をつくした。  
エ. 殖産興業をめざして外国から機械を買い入れ、栃木県に富岡製糸場をたてた。

- 7 下線部⑥について、北前船のうつりかわりをあらわした下の**グラフⅠ**を見ると、明治時代以降は減少の傾向が見られる。なぜそのような変化がおこったのか。**グラフⅡ**・**グラフⅢ**をふまえ、30字程度で説明しなさい。

グラフⅠ 羽後国飛鳥の入港船数のうつりかわり

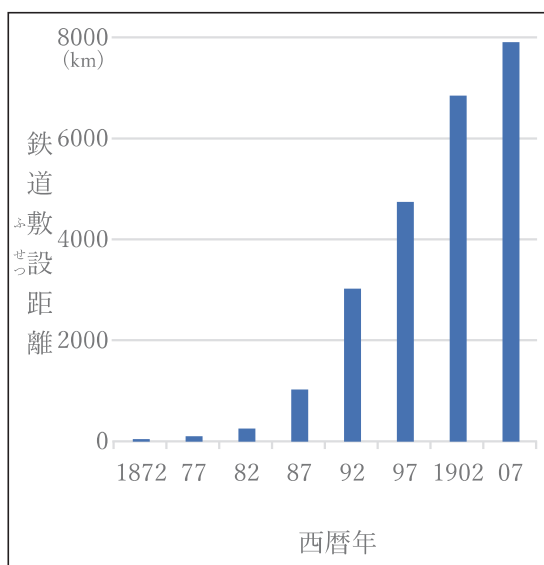


梅村又次「17～19世紀における日本海海運の発展」(『数量経済史論集2 近代移行期の日本経済』(日本経済新聞社、1979年))より

※羽後国飛鳥…山形県庄内地方酒田港の北北西約39kmにある小島。

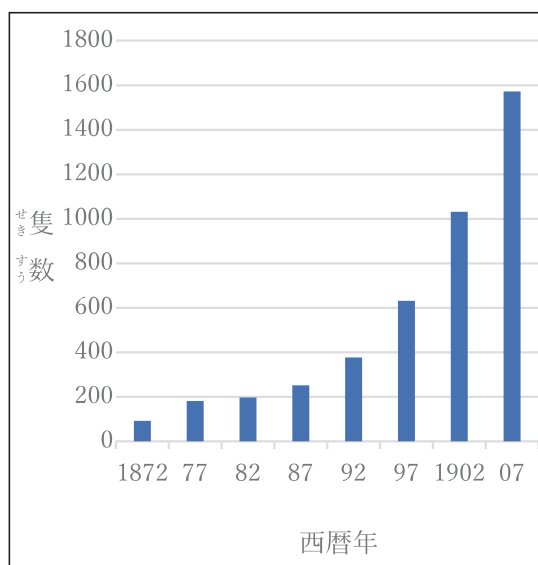
江戸時代以来、中継港の役割をになった。

グラフⅡ 鉄道敷設距離のうつりかわり



朝日新聞社編『日本経済統計総観』より作成

グラフⅢ 蒸気船隻数のうつりかわり



造船協会編『日本近世造船史』より作成

- 8 下線部㉗について、次のX～Zの説明にあてはまる時代を、次のア～エから1つずつ選び、それぞれ記号で答えなさい。

X 苦勞のすえ帰国の遣唐使船 <small>けんとうし</small> にのって日本にやってきた鑑真は、仏教の規律を伝えた。
Y 聖徳太子を中心に新しい国づくりがすすめられ、中国との対等な関係を求めて遣隋使 <small>けんずいし</small> を送った。
Z 近畿に大きな力をもつ政権が生まれ、自らの力を認めてもらうために中国へ使者をおくる大王もいた。

ア. 古墳時代      イ. 平安時代      ウ. 飛鳥時代      エ. 奈良時代

- 9 下線部㉘について、この文化を代表するものとして誤っているものを1つ選び、記号で答えなさい。

ア. 十二単      イ. 寝殿造      ウ. 万葉集      エ. ひらがな

- 10 下線部㉙について、この結果、中国東北部を占領する事件が1931年におこりました。この事件を何といいますか。漢字4字で答えなさい。

- 11 下線部㉚についての説明として正しいものを1つ選び、記号で答えなさい。

ア. この戦争における日本海海戦で、東郷平八郎ひきいる艦隊かんたいがアメリカ艦隊をやぶった。  
イ. この戦争で東京や名古屋など日本の主な都市は空襲くうしゅうをうけ、多くの人々が犠牲ぎせいとなった。  
ウ. この戦争は朝鮮での内乱をきっかけにはじまり、まず台湾の占領に成功した。  
エ. この戦争はサイパンの真珠湾しんじゆわんにあったアメリカの軍港こうげきを攻撃してはじまった。

- 12 下線部㉛について、これが伝来したころの説明として正しいものを1つ選び、記号で答えなさい。

ア. フランシスコ・ザビエルが函館に上陸してキリスト教を伝え、またたくまに広まった。  
イ. 織田信長は桶狭間の戦いで浅井氏をやぶるなど、次々と有力な大名をたおした。  
ウ. ポルトガル人によって鉄砲が伝わり、当時の戦争に大きな影響をあたえた。  
エ. 豊臣秀吉は天下統一をめざしたが、明智光秀にそわかれて果たせなかった。

13 下線部㊸のころの出来事として正しいものを1つ選び、記号で答えなさい。

- ア. 大名を取りしめるための参勤交代のおかげで、五街道などの陸路が整備された。
- イ. たびたびききんがおこり、役人に不満をもった大塩平八郎が江戸で反乱をおこした。
- ウ. 幕府がひらかれた江戸は大都市に成長し、「天下の台所」とよばれた。
- エ. 村ごとに年貢を納めさせ、百姓は朱印状ひやくしゅうという仕組みで責任を負わされた。

14 レポート(F)中の( 2 )にあてはまる地名を答えなさい。

15 ゆりこさんの(A)～(F)のレポートは順序通りではありません。年代順に正しく並べ替えると、どのような順序になりますか。次から1つ選び、記号で答えなさい。

- ア. (A) → (B) → (D) → (F) → (C) → (E)
- イ. (A) → (B) → (D) → (C) → (E) → (F)
- ウ. (A) → (D) → (B) → (C) → (E) → (F)
- エ. (A) → (D) → (B) → (F) → (C) → (E)

- 3 昨年の夏休みに、片瀬さんは大阪・関西万博へ行ってきました。そのときの様子について、夏休み明けに友人の目白さんと話をしています。次の会話文を読んで、あとの各問いに答えなさい。

目白さん：今年の夏休みも暑かったね。暑いからほとんどの時間を家で過ごしちゃったけど、片瀬さんは夏休みにどこか行った？

片瀬さん：私は万博に行ったんだ！未来の社会がうまく表現されていて楽しかったな…①8月11日の祝日に行ったんだけど、②老若男女問わず、外国人観光客もたくさん来ていて盛り上がっていたよ。③天気も良くてよかった。

目白さん：いいな！外国のブースもたくさんあったんでしょ？

片瀬さん：そうそう、国ごとにパビリオンという展示館が設けられていたんだけど、④地球環境の問題をはじめとした持続可能な開発目標をテーマにしていたり、⑤情報化を背景に人工知能の可能性について発信しているところもあったよ。外国人に声をかけられてびっくりした。

目白さん：すごい！今はインターネットを通じて同じ趣味などをもつ人などが情報を共有できるサービスもあるから、外国人とのやりとりも昔と比べてしやすいみたいだけど、外国人と直接会って話をする機会はなかなかないよね。

片瀬さん：そうだね。7月、⑥国会議員になるための⑦選挙に向けて運動をしていた大阪市の政治家も、「⑧夢洲で万博を開催し、にぎわっている。皆さんに支えられて万博が開催できた。」と語っていたらしいよ。あ、そうそう、万博で撮ってきた写真があるから見てくれる？

- 1 片瀬さんはいろいろな国のパビリオンを写真に撮ってきました。それらの写真が次の3枚ですが、[写真Ⅰ]～[写真Ⅲ]の国と日本の関係について書かれた次のア～エの中で、どの写真の国にもあてはまらないものを1つ選び、記号で答えなさい。

[写真Ⅰ]



[写真Ⅱ]



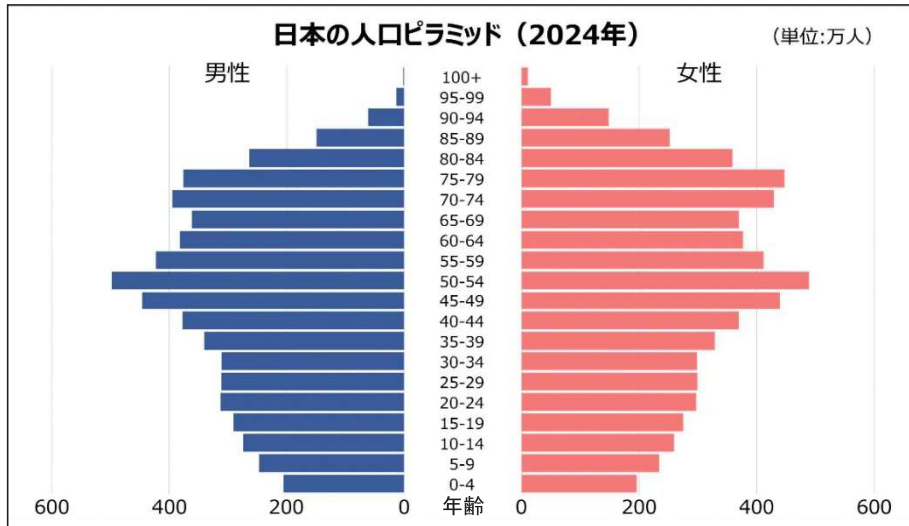
[写真Ⅲ]



- ア. 『東方見聞録』の中で、日本のことを初めてヨーロッパに紹介した国である。  
イ. 現在、日本にとって最大の貿易相手国である。  
ウ. 1908年に日本からの移住が始まり、群馬県大泉町でも日系人が多く暮らしている。  
エ. 2024年時点で、日本が最も多くの石油を輸入している国である。
- 2 下線部①について、8月11日は何という祝日か。記号で答えなさい。

ア. 文化の日      イ. 勤労感謝の日      ウ. 憲法記念日      エ. 山の日

- 3 下線部②について、2025年はいわゆる団塊の世代とよばれる人たち全員が、75歳以上である後期高齢者になった年でもありました。次のグラフは現在の日本でどの年齢層がどれくらいいるかという割合を示す「人口ピラミッド(2024年)」です。このグラフからわかることや推測できることとして、誤っているものをグラフ下の選択肢から1つ選び、記号で答えなさい。



国際連合人口部世界人口推計

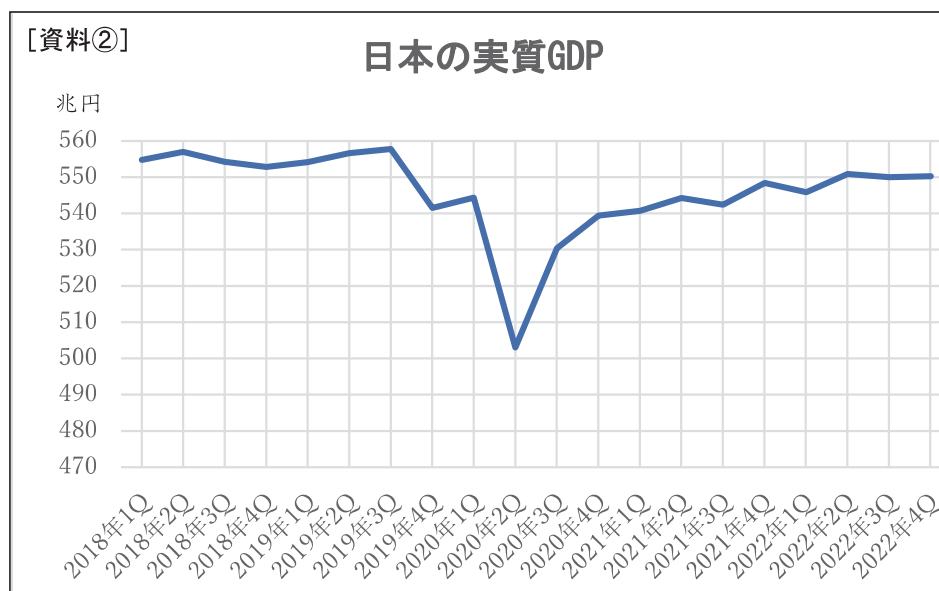
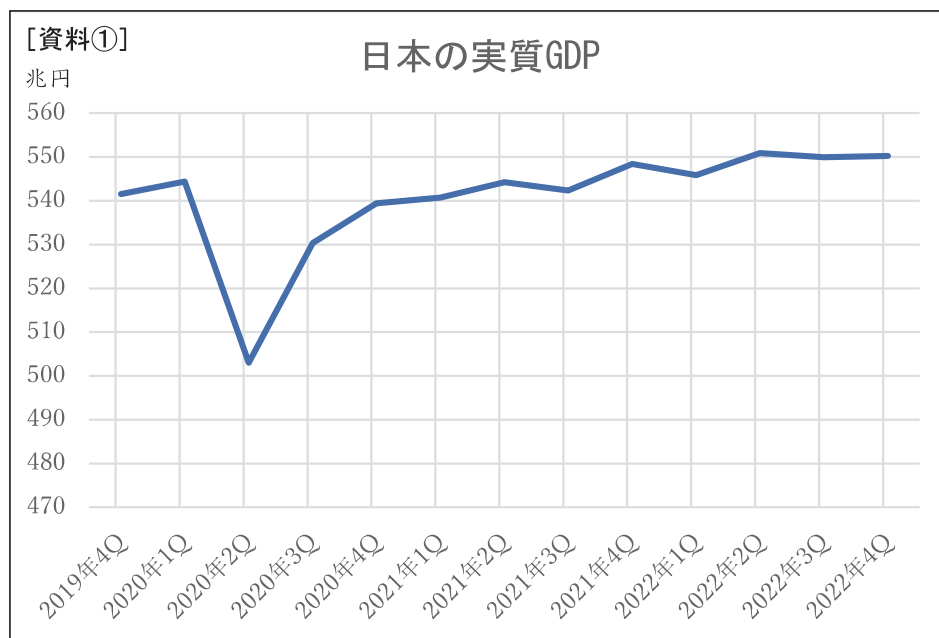
- ア. 65歳以上の層を見ると、男性よりも女性の高齢者の方が多いことがわかる。  
 イ. 65歳以上の高齢者の割合は、全体の3割近くを占めていることがわかる。  
 ウ. このままの推移でいくと、今後も日本の人口は増え続けていく。  
 エ. このままの推移でいくと、若い世代が高齢者を支えるための負担が重くなっていく。
- 4 下線部③について、天気予報は気象庁が発表している。気象庁は何という省に属するか。記号で答えなさい。

ア. 総務省      イ. 経済産業省      ウ. 国土交通省      エ. 農林水産省

- 5 下線部④について、次の年表はある地球環境問題の解決をめざし、国際社会が取り組んできたことの経緯を表している。年表中の  にあてはまる最も適切な言葉を漢字4文字で答えなさい。

西暦	取り組み	内容
1992年	気候変動枠組条約の採択	<input checked="" type="checkbox"/> ガスの濃度の安定化が目標
1997年	国際会議にて京都議定書の採択	<input checked="" type="checkbox"/> ガスの排出量削減の数値目標を国別に制定
2015年	パリ条約の採択	すべての加盟国が5年ごとに <input checked="" type="checkbox"/> ガス排出量削減目標を国際連合に提出

- 6 下線部⑤について、2022年、メディアや政府関係者が「日本経済はコロナ前の水準を回復した」と発表しました。このことは、下の【資料①】のグラフだけを見ると、間違いではないように思えますが、【資料②】のグラフを見ると、必ずしもそうではないと考えられます。【資料①】の問題点とその理由を簡潔に答えなさい。



内閣府統計より

※グラフ中のGDPとは、一定期間内に国内で取引されたモノやサービスの合計金額のことである。

※グラフ中のQは四半期を表している（例：2020年1Q＝2020年1月～3月までをさす）

※消費税増税は2019年10月1日から、コロナの世界的流行は2020年1月から始まった。

7 下線部㉔について、国会の働きの1つとして、身分にふさわしくない行為をした裁判官をやめさせるかどうかを判断する裁判を開くことができます。この裁判のことを何というか、解答らんにかうかたちで答えなさい。

8 下線部㉕について、以下の問いに答えなさい。

(1) 日本における選挙についての説明文として、正しいものを1つ選び、記号で答えなさい。

- ア. 現在の選挙権は、満20歳以上にならないと与えられない。
- イ. 参議院議員通常選挙に立候補できる年齢は満25歳からである。
- ウ. 横浜市の市長は、住民の選挙によって直接選出される。
- エ. 内閣総理大臣は、国民の選挙によって直接選出される。

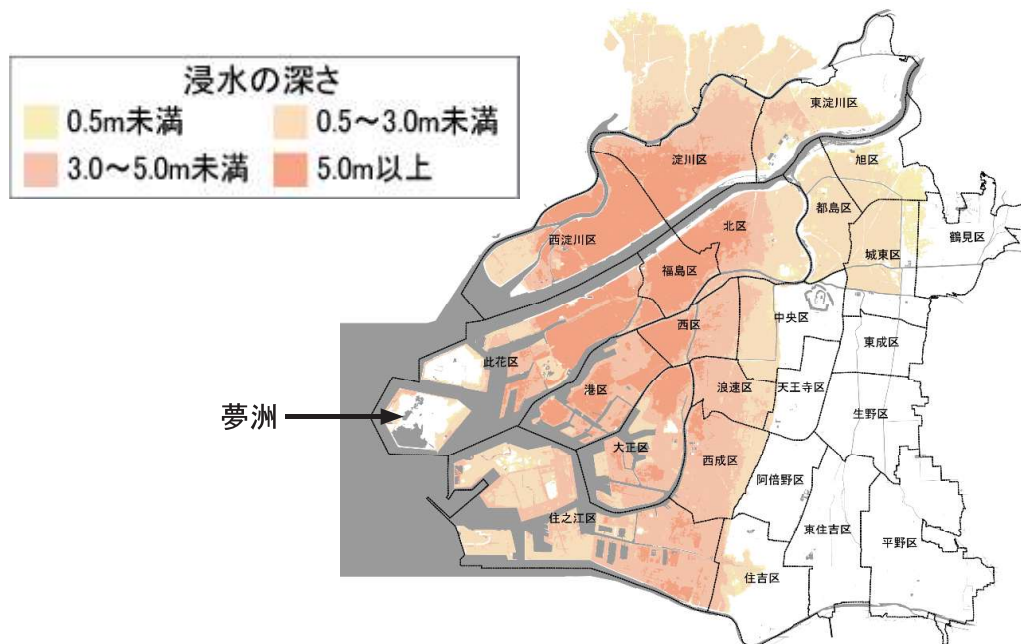
(2) 2025年7月、参議院議員選挙があった。次のグラフは、これまでににおける参議院選挙の年代別の投票率の推移を示しています。このグラフからわかる「かたより」とその「かたより」から生じる問題点について、次の中から正しいものをすべて選び、記号で答えなさい。



公益財団法人 明るい選挙推進協会より

- ア. 若い世代ほど投票率が低くなっている。
- イ. 高齢になるほど投票率が低くなっている。
- ウ. 立候補者は、若い世代に有利になる政策を掲げやすくなる。<sup>かか</sup>
- エ. 立候補者は、高齢者に有利になる政策を掲げやすくなる。

- 9 下線部㊸について、次の地図は、大阪市で高潮が発生した際に、どの程度の浸水が予測できるかを示したものです。これを見ると、万博が開催されている夢洲は比較的**安全**であることがわかります。このような自然災害にともなう被害を予測し、避難場所などを地図上に示したものを何と  
いいますか、カタカナの用語で答えなさい。



- 10 アルファベットで表記した次の用語の中で、会話文の中に出てこないものを1つ選び、記号で答えなさい。

ア. NGO      イ. SNS      ウ. SDGs      エ. AI



社会科 解答用紙

2026年度

1

1	(1)	(2)	(3)	2		
3	4	5	6			
6	7					
8	(1)	(2)	9			
10	11	12				
13	_____					

3

1	2	3	4		
5	4				
6	_____				
7	裁判				
8	(1)	(2)			
9	_____				
10	_____				

2

1	2	3				
4	5	a	b	c	6	
7						35
8	X	Y	Z	9		
10	11		12	13		
14	15					

受験番号

番

氏名

得点